


مهر مدرسه	نمره	سوالات ارزشیابی نوبت اول درس اقتصاد			اداره آموزش و پرورش منطقه ۵ تهران	
		پایه: دهم	درس: اقتصاد	دوره: دوم	دبیرستان دخترانه غیر دولتی راهیان کوثر	
		مدت آزمون: ۷۰ دقیقه		تاریخ آزمون: ۱۴۰۲/۱۰/۱		روز آزمون:
	نام دبیر	شماره صندلی	تعداد صفحه سوالات	کلاس	نام خانوادگی	نام
	خانم گلزاری		۴			

بارم	سؤالات	ردیف
۱	<p>* صحیح یا غلط بودن جملات را مشخص کنید:</p> <p>الف) هزینه‌های هدر رفته می‌تواند در انتخاب و تصمیم شما تأثیر داشته باشند. <input type="checkbox"/> صحیح <input type="checkbox"/> غلط</p> <p>ب) تصمیمات عاقلانه از مقایسه هزینه‌ها و منافع در هر انتخاب به وجود می‌آیند. <input type="checkbox"/> صحیح <input type="checkbox"/> غلط</p> <p>ج) اگر مقدار تقاضای کالایی بیشتر از عرضه باشد، کمبود عرضه رخ داده است. <input type="checkbox"/> صحیح <input type="checkbox"/> غلط</p> <p>د) فروشندگان آثار هنری در نمایشگاهها و حراجی‌ها، مناقصه و خریداران عمده کالاها و خدمات، مزایده برگزار می‌کنند. <input type="checkbox"/> صحیح <input type="checkbox"/> غلط</p>	۱
۱	<p>* جملات زیر را با عبارات مناسب کامل کنید:</p> <p>الف) در کسب و کار تعاونی، توزیع سود احتمالی در پایان دوره به نسبت است.</p> <p>ب) گاه به دلایل طبیعی، اقتصادی، قانونی یا حتی غیرقانونی، تعداد فروشنده یا خریدار به یک یا چند نفر محدود می‌شود، این وضعیت را می‌گوییم.</p>	۲
۲	<p>* گزینه صحیح را انتخاب کنید:</p> <p>الف) "تخصص‌گرایی بیشتر" از مزایای کدام یک از کسب و کارهای زیر می‌باشد؟ (۱) شخصی (۲) تعاونی (۳) غیرانتفاعی (۴) شرکت</p> <p>ب) کدام یک از مالیات‌های زیر برای حمایت از صنایع داخلی به کار گرفته می‌شوند؟ (۱) مالیات بر دارایی (۲) مالیات بر مصرف (۳) حقوق و عوارض گمرکی (۴) عوارض خدماتی</p> <p>ج) یک موسسه غیرانتفاعی نهادی است که برای انجام مأموریتی، یعنی با هدفی شکل گرفته است. (۱) قانونی - غیرسودآور - غیرتجاری (۲) قانونی - سودآور - غیرتجاری (۳) غیردولتی - سودآور - تجاری (۴) غیردولتی - غیرسودآور - تجاری</p> <p>د) کدام پیمان بعدها به سازمان دایمی تجارت جهانی تبدیل شد؟ (۱) گات (۲) برتن وودز (۳) نفتا (۴) رژی</p>	۳
۱/۵	<p>* به سوالات زیر پاسخ کوتاه بدهید.</p> <p>الف) در صورتیکه قیمت قند افزایش یابد، تقاضا برای چای چگونه تغییر می‌کند؟ این دو کالا چه نسبتی با هم دارند؟</p> <p>ب) مهم‌ترین نوع مالیات بر دارایی چیست؟</p> <p>ج) سازمانی که وظیفه دارد کیفیت یا عدم کیفیت محصولات را تایید کند، چه نام دارد؟</p>	۴

 دبیرستان دخترانه راهیان کوثر	نام دبیر	شماره صندلی	کلاس	درس	نام خانوادگی	نام
	خانم گلزاری			اقتصاد		

۱	۵	* تفاوت مالیات مستقیم با مالیات غیرمستقیم در چیست؟												
۱/۵	۶	* منابع یا عوامل تولید را در یک آموزشگاه زبان مشخص کنید												
۱	۷	* منظور از هزینه فرصت اجتماع چیست؟ شرح دهید.												
۱	۸	* غیر از درآمد، چه عوامل دیگری بر مقدار تقاضای یک کالا مؤثر است؟												
۱	۹	* اگر اصل مزیت نسبی و مزیت مطلق رعایت نشود چه مشکلاتی پیش خواهد آمد؟												
۱	۱۰	* دو شرط از شرایط رسیدن به استقلال و استحکام اقتصادی را بنویسید.												
۱	۱۱	* عبارات مندرج در ستون الف را با مفاهیم مندرج در ستون ب مطابقت دهید. (یک مورد اضافه است).												
		<table border="1"> <thead> <tr> <th>ستون الف</th> <th>ستون ب</th> </tr> </thead> <tbody> <tr> <td>(۱) نظم، انضباط، پایداری، اشتیاق و توانایی حل مسئله</td> <td>الف) یاد گیرنده</td> </tr> <tr> <td>(۲) تبدیل ایده‌ها به محصولات جدید، فرآیندها و کسب و کارها</td> <td>ب) خوش بین</td> </tr> <tr> <td>(۳) وفق دادن خود با شرایط بازار</td> <td>ج) نوآور</td> </tr> <tr> <td>(۴) مطمئن و دلگرم به موفقیت اقتصادی</td> <td>د) ریسک پذیر</td> </tr> <tr> <td></td> <td>ز) پر انگیزه</td> </tr> </tbody> </table>	ستون الف	ستون ب	(۱) نظم، انضباط، پایداری، اشتیاق و توانایی حل مسئله	الف) یاد گیرنده	(۲) تبدیل ایده‌ها به محصولات جدید، فرآیندها و کسب و کارها	ب) خوش بین	(۳) وفق دادن خود با شرایط بازار	ج) نوآور	(۴) مطمئن و دلگرم به موفقیت اقتصادی	د) ریسک پذیر		ز) پر انگیزه
ستون الف	ستون ب													
(۱) نظم، انضباط، پایداری، اشتیاق و توانایی حل مسئله	الف) یاد گیرنده													
(۲) تبدیل ایده‌ها به محصولات جدید، فرآیندها و کسب و کارها	ب) خوش بین													
(۳) وفق دادن خود با شرایط بازار	ج) نوآور													
(۴) مطمئن و دلگرم به موفقیت اقتصادی	د) ریسک پذیر													
	ز) پر انگیزه													

۰/۵

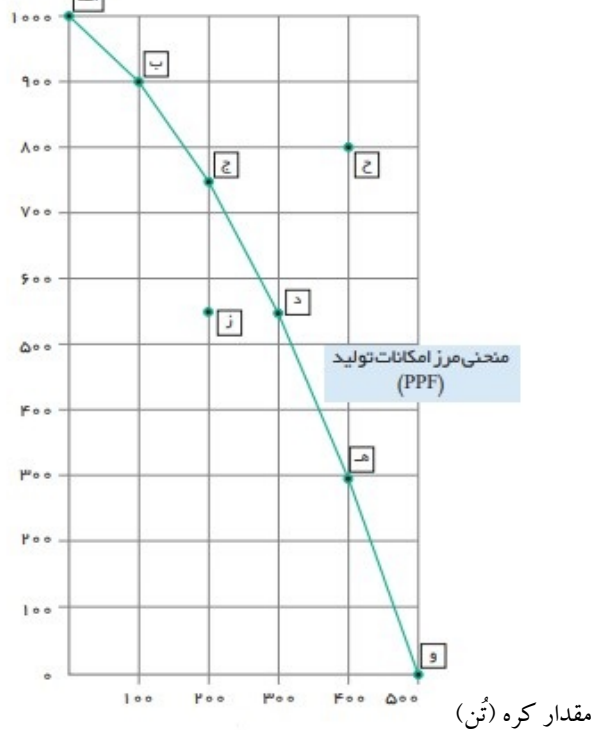
۱۲ * فردی را تصور کنید که دارای یک قطعه زمین کشاورزی است، اگر این زمین را بخواهد به فرد دیگری اجاره بدهد در طول یکسال حدود ۱۵ میلیون تومان اجاره بهای زمین خواهد بود؛ و چنانچه این زمین را بخواهد به فروش برساند حدود ۵۰ میلیون تومان قیمت زمین خواهد بود ولی این فرد تصمیم می‌گیرد که خودش در این زمین کشاورزی کند، در این صورت هزینه فرصت این فرد چقدر خواهد بود؟

۱/۵

۱۳ کارمندی را تصور کنید که ماهانه ۲۰ میلیون تومان حقوق می‌گیرد. اگر نرخ مالیات بر حقوق ماهانه، ۱۰ درصد باشد:
الف) میزان مالیات پرداختی سالیانه او چقدر است؟
ب) میزان خالص دریافتی ماهانه او چقدر است؟

۱/۵

تعداد اسلحه (واحد)

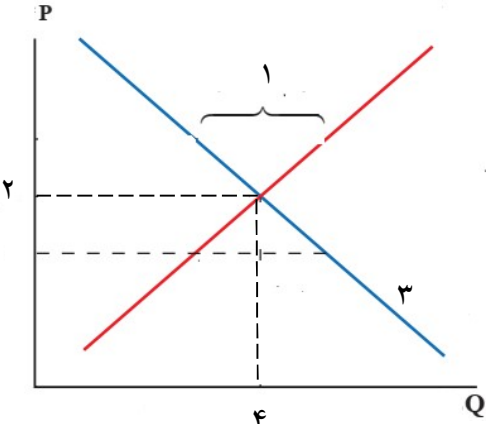


۱۴ با توجه به نمودار مقابل (نمودار معروف کره با اسلحه) به سوالات مطرح شده پاسخ دهید.
الف) نقطه ناکارا در این منحنی کدام است؟ چرا؟

ب) هزینه فرصت جابجایی از نقطه (الف) به نقطه (ج) چیست؟

ج) نقطه (ح) در این محور مختصات چه مفهومی دارد؟

نام خانوادگی	نام	درس	کلاس	شماره صندلی	نام دبیر
		اقتصاد			خانم گلزاری

۲	<p>۱۵ * فعالیت سالیانه یک بنگاه تولیدی را در نظر بگیرید و با توجه به اطلاعات داده شده محاسبه نمایید.</p> <p>پرداخت حقوق = ۱۰ کارگر که حقوق سالیانه هر یک ۱۵ میلیون تومان است.</p> <p>خرید ماشین آلات = ۳۰۰ میلیون تومان - خرید مواد اولیه = ۵۰ میلیون تومان - اجاره کارگاه و هزینه‌های جانبی = ۵۰ میلیون - تولید کالا = در طول سال ۳۰۰۰ واحد - قیمت هر واحد کالا = ۲۰۰/۰۰۰ تومان</p> <p>الف) میزان درآمد سالیانه این بنگاه چقدر است؟</p> <p>ب) فعالیت این بنگاه سود ده بوده یا زیان ده؟</p>	۱۵
۱	<p>۱۶ * در نمودار مختصات زیر به جای هر یک از اعداد مشخص شده باید چه نوشت؟</p>  <p>۱:</p> <p>۲:</p> <p>۳:</p> <p>۴:</p>	۱۶
۰/۵	<p>۱۷ * اگر دارایی یک شرکت سهامی فرضی به دو میلیون سهم تقسیم شده باشد و ارزش هر سهم ۳۵۰۰ ریال باشد، میزان کل سرمایه شرکت را حساب کنید.</p>	۱۷

خدایا چنان کن سرانجام کار

تو خوشنود باشی و ما رستگار